

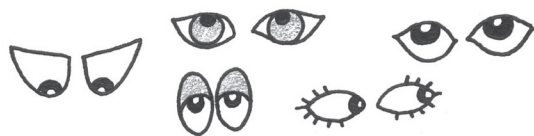
# Колико има очију?




## Множимо са 2



$$3 \times 2 = 6 \text{ очију}$$



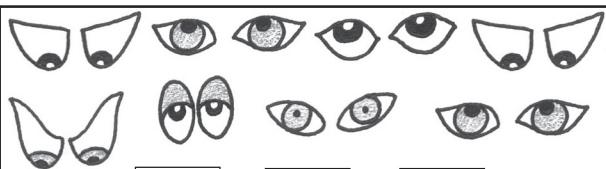
$$\square \times \square = \square \text{ очију}$$



$$\square \times \square = \square \text{ очију}$$



$$\square \times \square = \square \text{ ока}$$



$$\square \times \square = \square \text{ очију}$$



$$\square \times \square = \square \text{ очију}$$

Нацртај цртеже који ће представљати дате производе:

$$2 \times 2 = 4$$



$$10 \times 2 = 20$$

$$3 \times 2 = 6$$

$$7 \times 2 = 14$$