


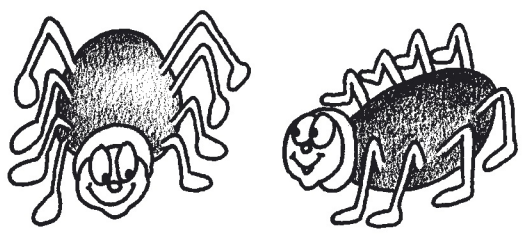


КОЛИКО НОГУ?




$4 + 4 + 4 = 12$ ногу

3 пута по 4 → 12




$8 + 8 = \square$ ногу

2 пута по 8 →



$5 + 5 + 5 + 5 = \square$ ногу

пута по →




$3 + 3 + 3 + 3 = \square$ ногу

пута по →



$2 + 2 + 2 = \square$ ногу

пута по →



$10 + 10 = \square$ ногу

пута по →